

Date : _____

Calculs dictés

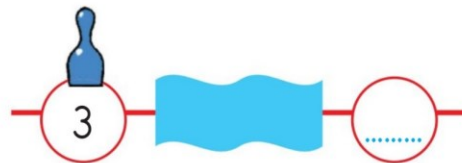
1



Problèmes : les sauts sur la file numérique

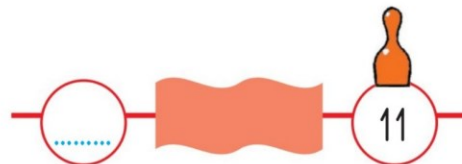
2

Zoé avance 3 fois son pion de 2 cases. Complète la case d'arrivée.



3

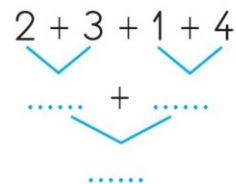
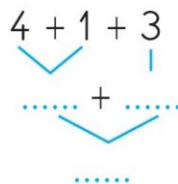
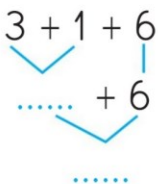
Arthur recule 3 fois son pion de 2 cases. Complète la case d'arrivée.



Calcul de sommes

4

Calcule ces sommes en complétant les arbres de calcul.



5

Complète.

$2 + 1 + 3 = \dots\dots$

$2 + 3 + 4 = \dots\dots$

$5 + 1 + 3 = \dots\dots$

$5 + 1 + 4 = \dots\dots$

$5 + 5 + 2 = \dots\dots$

$5 + 1 + 5 = \dots\dots$

6

Entoure les égalités qui sont justes. Barre celles qui sont fausses.

$4 + 4 = 8$

$3 + 2 + 3 = 8$

$2 + 3 + 4 = 5 + 4$

$2 + 2 + 5 = 9$

$5 + 1 + 4 = 9$

$2 + 2 + 2 = 3 + 4$